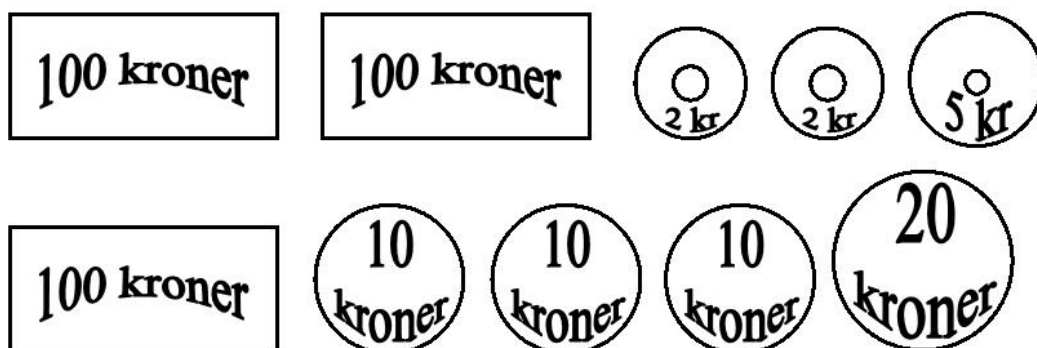


Denne sommer hat koster 125 kr



Du har 359 kr.



Sommer hatten koster 125 kr. - Sæt **X** over 125 kr.

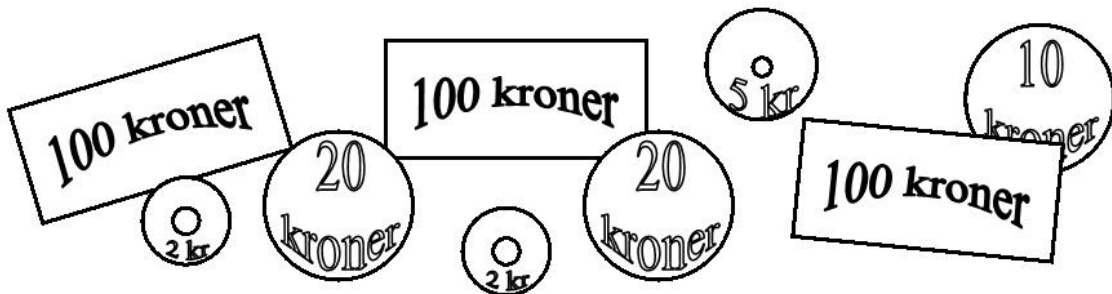
Hvor meget er der tilbage?

Tegn pengene og skriv beløbet:

_____ KR.

Du har 359 kr.

Hvor meget har du tilbage når du har købt sommer hatten?



<p>Først trækker du de blå tal fra hinanden: $9 - 5 = 4$</p> <p>Tallet 4 skrives ind i regnestykket på følgende måde</p> <p style="text-align: center;">④</p>	$\begin{array}{r} 359 \\ - 125 \\ \hline 4 \\ \hline \hline \end{array}$
<p>Så trækker du de røde tal fra hinanden: $5 - 2 = 3$</p> <p>Tallet 3 skrives ind i regnestykket på følgende måde</p> <p style="text-align: center;">③</p>	$\begin{array}{r} 359 \\ - 125 \\ \hline 34 \\ \hline \hline \end{array}$
<p>Til sidst trækker du de sorte tal fra hinanden: $3 - 1 = 2$</p> <p>Tallet 2 skrives ind i regnestykket på følgende måde</p> <p style="text-align: center;">②</p>	$\begin{array}{r} 359 \\ - 125 \\ \hline 234 \\ \hline \hline \end{array}$

Resultat: du har 234 kr tilbage

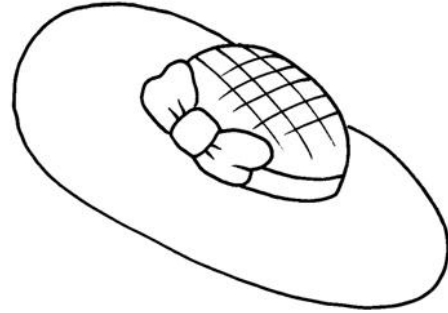
Nu skal du selv prøve!

100 kroner

100 kroner

100 kroner

20
kroner



-

10
kroner

10
kroner

10
kroner

125 kr.

5 kr

2 kr

2 kr

3 5 9

- 1 2 5

Kr.