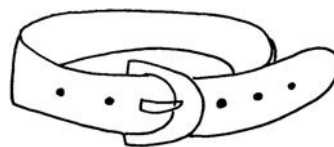


Dette bælte koster 322 kr



Du har 498 kr.

100 kroner

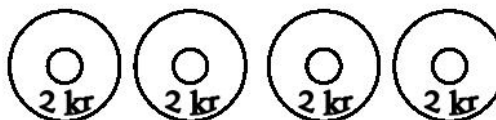
100 kroner

50 kroner



100 kroner

100 kroner



Bæltet koster 322 kr. - Sæt **X** over 322 kr.

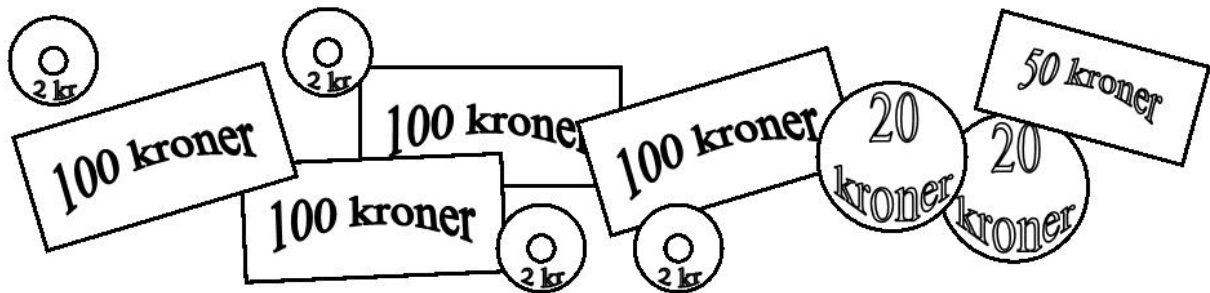
Hvor meget er der tilbage?

Tegn pengene og skriv beløbet:

_____ KR.

Du har 498 kr.

Hvor meget har du tilbage når du har købt bæltet?



| | |
|--|--|
| <p>Først trækker du de blå tal fra hinanden: $8 - 2 = 6$</p> <p>Tallet 6 skrives ind i regnestykket på følgende måde</p> <p style="text-align: center;">⑥</p> | $\begin{array}{r} 498 \\ - 322 \\ \hline 6 \\ \hline \hline \end{array}$ |
| <p>Så trækker du de røde tal fra hinanden: $9 - 2 = 7$</p> <p>Tallet 7 skrives ind i regnestykket på følgende måde</p> <p style="text-align: center;">⑦</p> | $\begin{array}{r} 498 \\ - 322 \\ \hline 76 \\ \hline \hline \end{array}$ |
| <p>Til sidst trækker du de sorte tal fra hinanden: $4 - 3 = 1$</p> <p>Tallet 1 skrives ind i regnestykket på følgende måde</p> <p style="text-align: center;">①</p> | $\begin{array}{r} 498 \\ - 322 \\ \hline 176 \\ \hline \hline \end{array}$ |

Resultat: du har 176 kr tilbage

Nu skal du selv prøve!

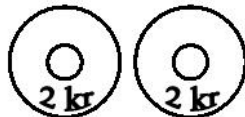
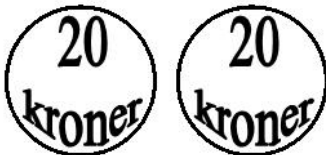
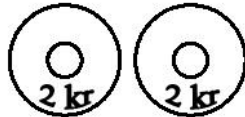
100 kroner

100 kroner

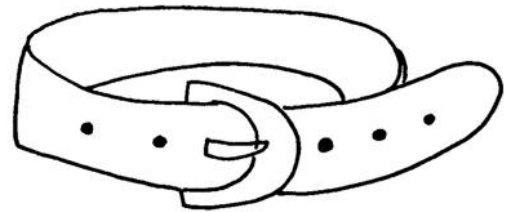
100 kroner

100 kroner

50 kroner



-



322 kr.

$$\begin{array}{r} 498 \\ - 322 \\ \hline \hline \end{array} \text{ Kr.}$$