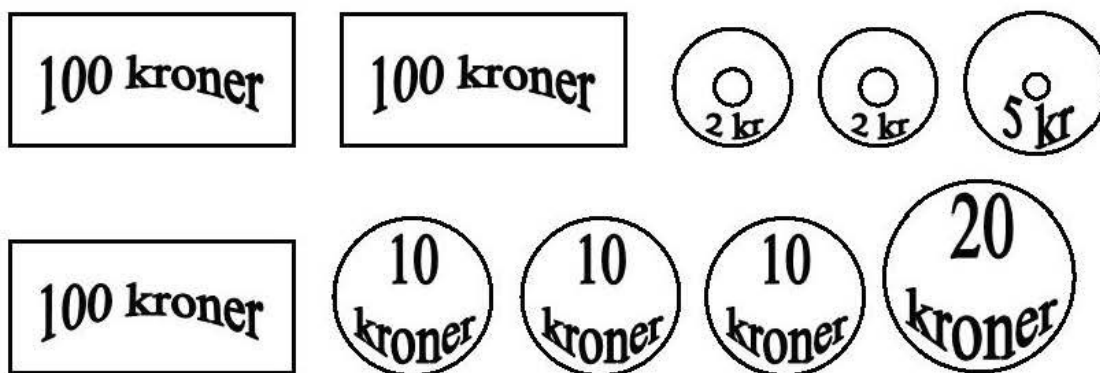


Denne sommer hat koster 125 kr



Du har 359 kr.



Sommer hatten koster 125 kr. - Sæt **X** over 125 kr.

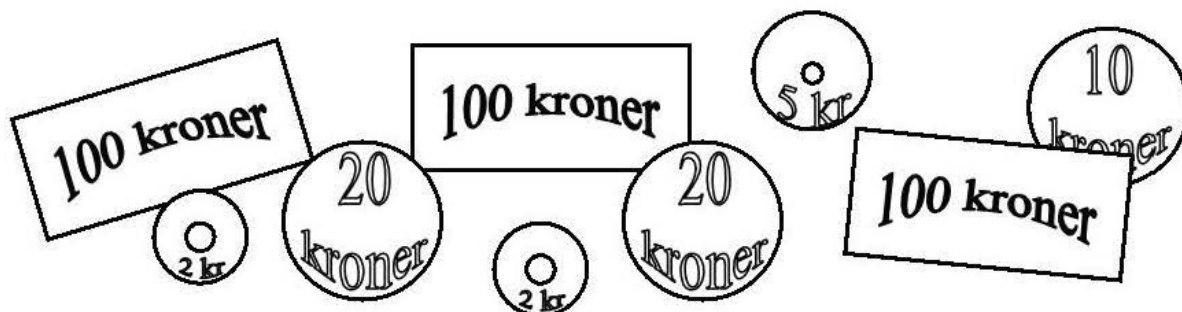
Hvor meget er der tilbage?

Tegn pengene og skriv beløbet:

_____ KR.

Du har 359 kr.

Hvor meget har du tilbage når du har købt sommer hatten?



<p>Først trækker du de blå tal fra hinanden: $9 - 5 = 4$</p> <p>Tallet 4 skrives ind i regnestykket på følgende måde</p> <p style="text-align: center;">④</p>	$\begin{array}{r} 3 \ 5 \ 9 \\ - 1 \ 2 \ 5 \\ \hline \ 4 \\ \hline \hline \end{array}$
<p>Så trækker du de røde tal fra hinanden: $5 - 2 = 3$</p> <p>Tallet 3 skrives ind i regnestykket på følgende måde</p> <p style="text-align: center;">③</p>	$\begin{array}{r} 3 \ 5 \ 9 \\ - 1 \ 2 \ 5 \\ \hline \ 3 \ 4 \\ \hline \hline \end{array}$
<p>Til sidst trækker du de sorte tal fra hinanden: $3 - 1 = 2$</p> <p>Tallet 2 skrives ind i regnestykket på følgende måde</p> <p style="text-align: center;">②</p>	$\begin{array}{r} 3 \ 5 \ 9 \\ - 1 \ 2 \ 5 \\ \hline \ 2 \ 3 \ 4 \\ \hline \hline \end{array}$

Resultat: du har 234 kr tilbage

Nu skal du selv prøve!

100 kroner

100 kroner

100 kroner

20
kroner

10
kroner

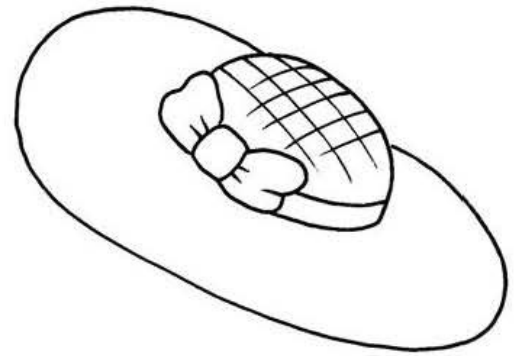
10
kroner

10
kroner

5 kr

2 kr

2 kr



125 kr.

3 5 9
- 1 2 5

_____ Kr.
=====